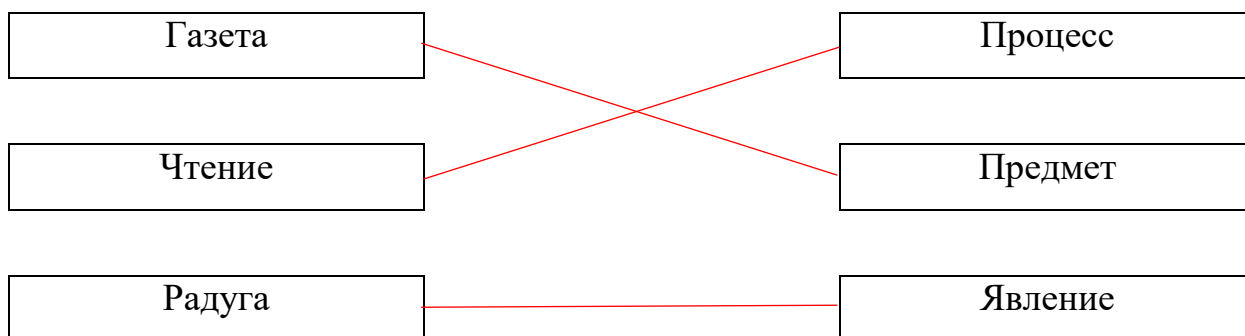


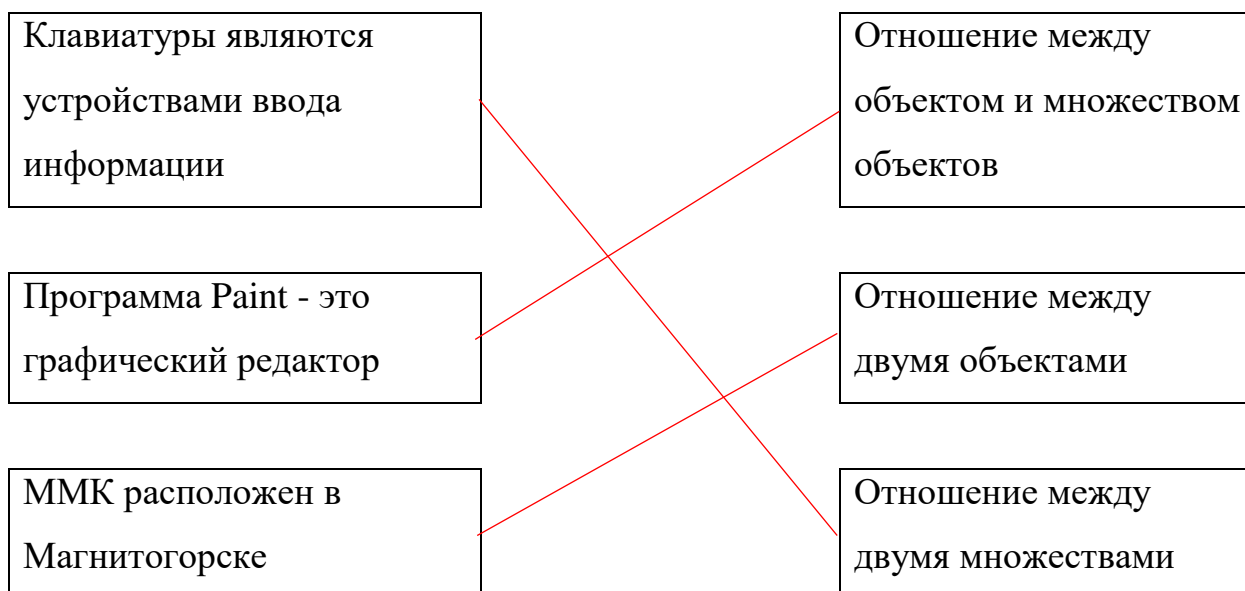
Демонстрационный вариант

Контрольная работа по теме: «Объекты и системы».

1. Установите соответствие



2. Установите соответствие

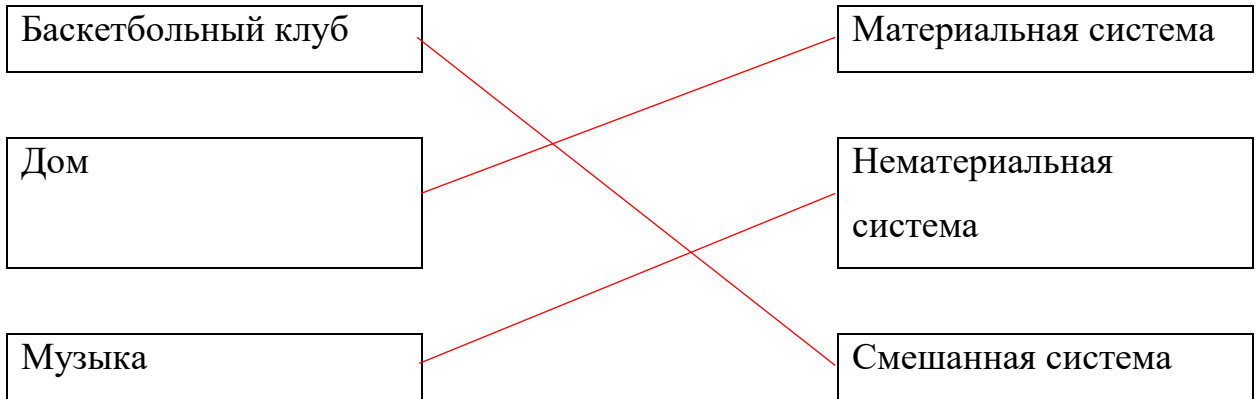


3. Укажите лишнее

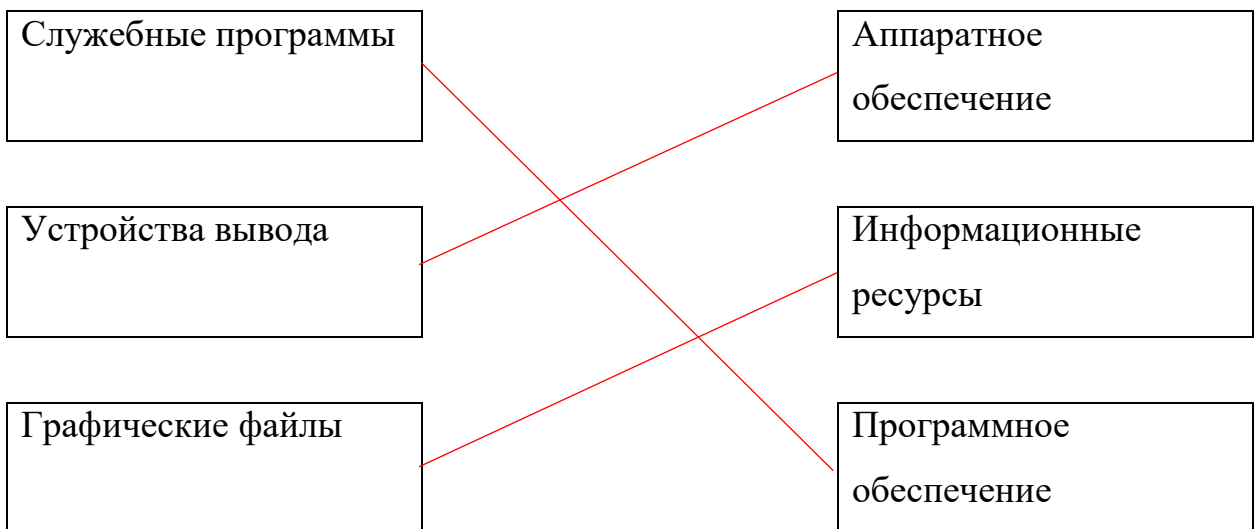
- Клавиатура
- Принтер
- Монитор
- Колонки

Ответ: Клавиатура (т.к. это устройство ввода, остальные это устройства вывода)

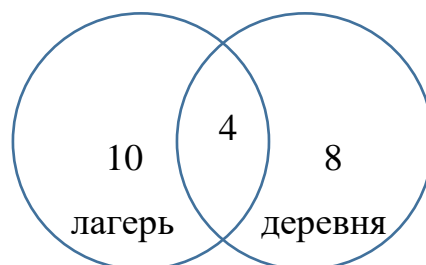
4. Установите соответствие



5. Установите соответствие



6. На летних каникулах все ученики 6Г класса были со сверстниками в оздоровительном лагере или в деревне с родителями. 10 учеников были в оздоровительном лагере, а 8 отдохнули в деревне с родителями. При этом 4 ученика смогли побывать и в летнем лагере, и отдохнуть в деревне с родителями. Сколько учеников в 6Г классе?



- 1) $10 - 4 = 6$ (чел) - были только в лагере
- 2) $8 - 4 = 4$ (чел) - были только в деревне
- 3) 6 (только в лагере) + 4 (только в деревне) + 4 (и в лагере, и в деревне) = 14 учеников в классе

Ответ: в классе 14 учеников